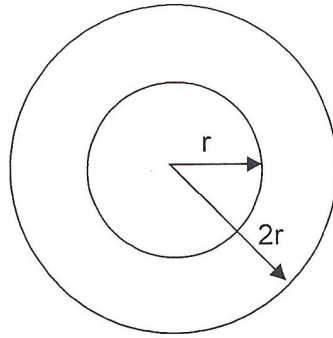


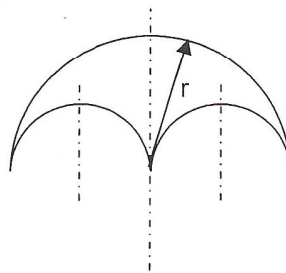
Aufgabe 4: KREISE



Welche der folgenden Aussagen sind richtig? Kreuze an begründe!

- Die Fläche des großen Kreises ist das Doppelte des kleinen Kreises
- Die Fläche des großen Kreises ist das Dreifache des kleinen Kreises
- Die Fläche des großen Kreises ist das Vierfache des kleinen Kreises

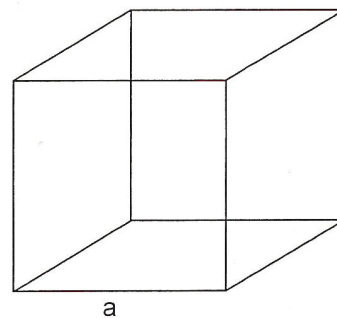
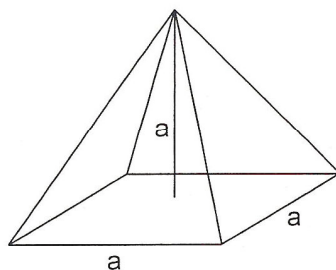
Aufgabe 5: KREISBÖGEN



Welche der folgenden Aussagen sind richtig? Kreuze an begründe!

- Die Länge der beiden kleinen Kreisbögen ist gleich der Länge des großen Bogens.
- Die Länge der beiden kleinen Kreisbögen entspricht zweimal der Länge des großen Bogens.
- Die Länge der beiden kleinen Kreisbögen entspricht der Hälfte der Länge des großen Bogens.

Aufgabe 6: KÖRPER



Wie oft passt die Pyramide in den Würfel? Begründe!